

Thema: Kurvendiskussion ganzrat. Funktionen; Produkt- und Kettenregel;
Steckbriefaufgaben

1.) Ableitungen

Bilden Sie die 1. Ableitung zu folgenden Funktionen:

$$\text{a) } f(x) = \left(\frac{1}{2}x^4 - 2x^3\right)^2$$

Lösung: $f'(x) = 2\left(\frac{1}{2}x^4 - 2x^3\right) \cdot (2x^3 - 6x^2)$

$$\text{b) } f(x) = \sqrt{\frac{3}{2}x^3 - \frac{4}{5}x^2 + 4}$$

Lösung: $f'(x) = \frac{\frac{9}{2}x^2 - \frac{8}{5}x}{2 \cdot \sqrt{\frac{3}{2}x^3 - \frac{4}{5}x^2 + 4}}$

$$\text{c) } f(x) = (5x^2 - 4x + 2)^3 (4x^2 + 1)$$

Lösung:

$$f'(x) = 3(5x^2 - 4x + 2)^2 (10x - 4)(4x^2 + 1) + (5x^2 - 4x + 2)^3 8x$$

$$f'(x) = (5x^2 - 4x + 2)^2 \left[3(10x - 4)(4x^2 + 1) + (5x^2 - 4x + 2)8x \right]$$

$$\text{d) } f(x) = (-x^4 + 3x^2)^{n+2}$$

Lösung: $f'(x) = (n+2)(-x^4 + 3x^2)^{n+1} \cdot (-4x^3 + 6x)$

2.) Ableitung und Steigung

Welche Steigungen hat die Funktion

$$f(x) = \left(\frac{1}{3}x^3 - x^2\right)(x^2 - 2x)$$

an den Stellen $x_1 = 2$ und $x_2 = -1$

Lösung:

$$f'(x) = (x^2 - 2x)(x^2 - 2x) + \left(\frac{1}{3}x^3 - x^2\right)(2x - 2)$$

$$f'(x) = (x^2 - 2x)^2 + \left(\frac{1}{3}x^3 - x^2\right)(2x - 2)$$

$$f'(2) = (4 - 4)^2 + \left(\frac{8}{3} - 4\right)(4 - 2) = 0 - \frac{8}{3} = -\frac{8}{3} = -2\frac{2}{3}$$

$$f'(-1) = 3^2 + \left(-\frac{4}{3}\right) \cdot (-4) = \frac{43}{3} = 14\frac{1}{3}$$

3.) Tangentenermittlung

Berechnen Sie die Tangente der Funktion an der Stelle $x = 2$:

$$f(x) = \left(-\frac{1}{3}x^3 + \frac{1}{2}x^2\right)^3$$

Lösung:

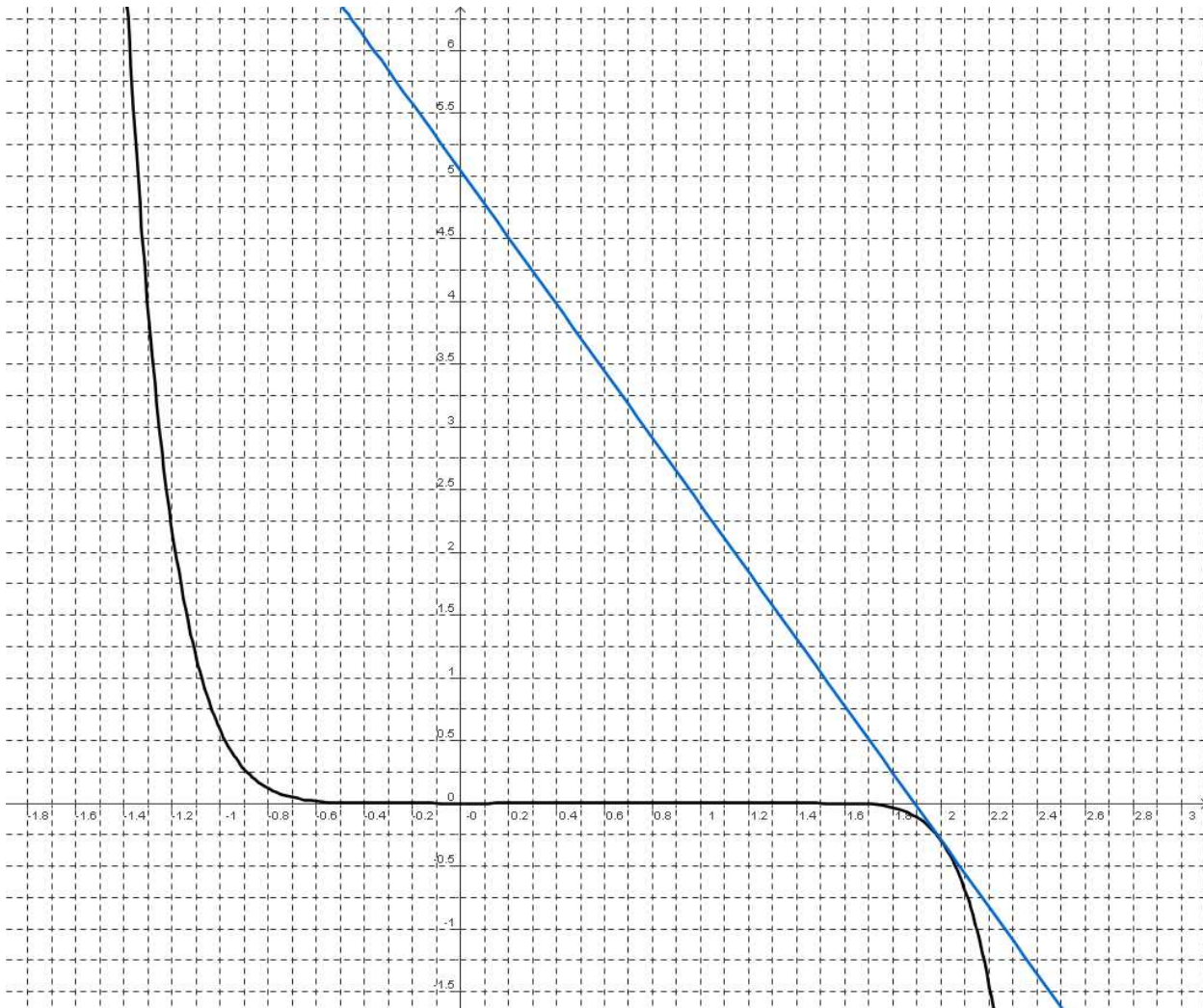
$$f(x) = \left(-\frac{1}{3}x^3 + \frac{1}{2}x^2\right)^3 \Rightarrow f(2) = -\frac{8}{27}$$

$$f'(x) = 3\left(-\frac{1}{3}x^3 + \frac{1}{2}x^2\right)^2(-x^2 + x) \Rightarrow f'(2) = -\frac{8}{3}$$

$$\Rightarrow -\frac{8}{27} = \left(-\frac{8}{3}\right) \cdot 2 + b \Rightarrow b = \frac{136}{27}$$

$$\Rightarrow t(x) = \left(-\frac{8}{3}\right)x + \frac{136}{27}$$

Graph der Funktion und der Tangente:



4.) Untersuchung einer ganzrationalen Funktion

Führen Sie bei folgender Funktion

$$f(x) = \frac{1}{4}x^3 - x^2$$

eine Untersuchung nach folgenden Kriterien durch:

- a) Symmetrie
- b) Nullstellen
- c) Extremwerte
- d) Wendepunkte
- e) Skizze der Funktion
- f) Ermitteln Sie die Funktionsgleichung der Wendetangente.

Lösung:

Symmetrie: Keine Symmetrie

$$f(-x) = \frac{1}{4}(-x)^3 - (-x)^2 = -\frac{1}{4}x^3 - x^2 \neq -f(x) \text{ und } \neq f(x)$$

Nullstellen:

$$f(x) = x^2 \left(\frac{1}{4}x - 1 \right) = 0 \Rightarrow x_1 = 0 (\text{doppelt}) \wedge x_2 = 4$$

Extremwerte:

$$f'(x) = x \left(\frac{3}{4}x - 2 \right) = 0 \Rightarrow x_1 = 0 \wedge x_2 = \frac{8}{3}$$

$$f''(x) = \frac{3}{2}x - 2$$

$$\Rightarrow f''(0) = -2 < 0 \Rightarrow \text{Max}(0 \mid 0)$$

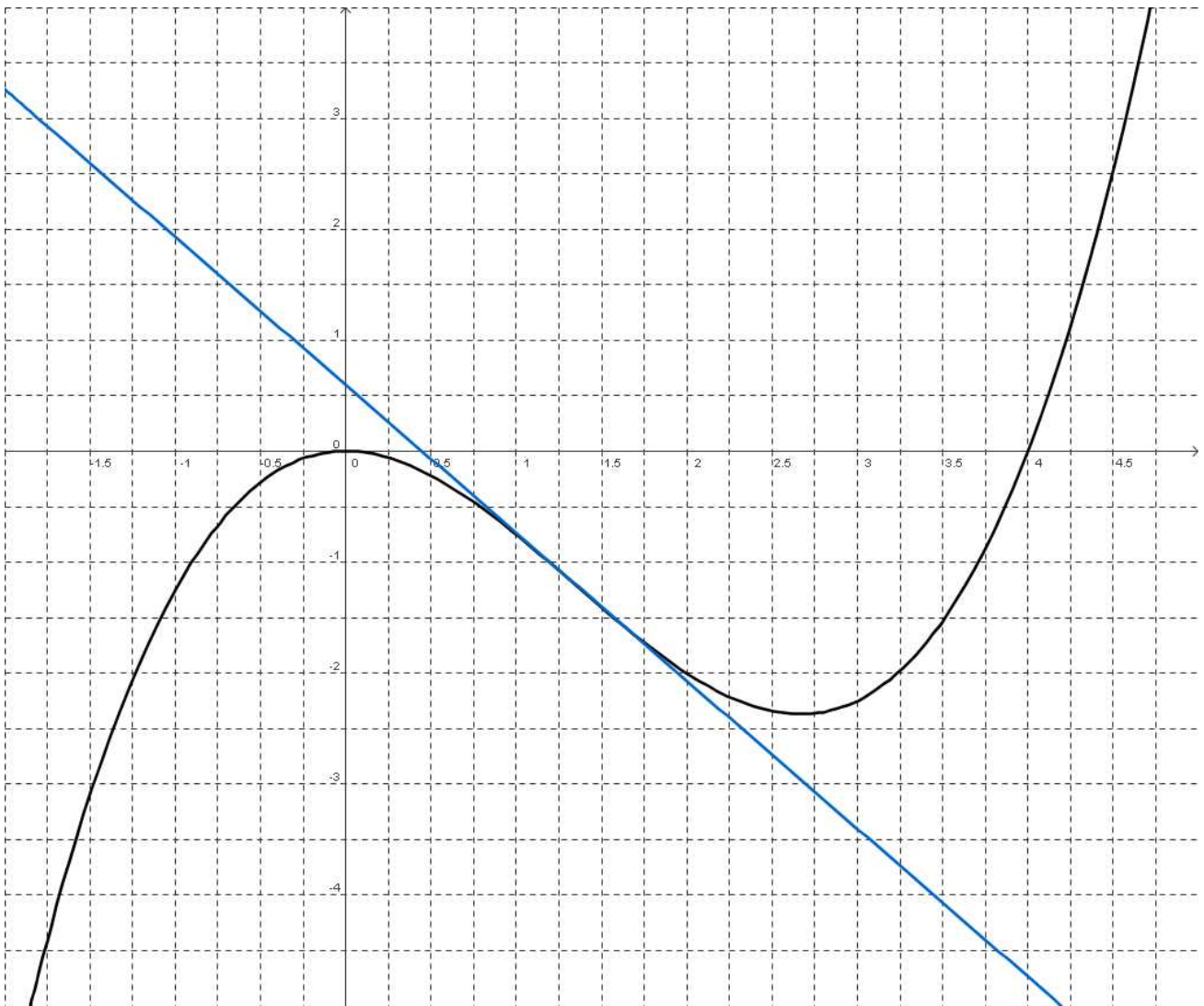
$$\Rightarrow f''\left(\frac{8}{3}\right) = 2 > 0 \Rightarrow \text{Min}\left(\frac{8}{3} \mid -\frac{64}{27}\right)$$

Wendepunkte:

$$f''(x) = \frac{3}{2}x - 2 = 0 \Rightarrow x = \frac{4}{3}$$

$$f'''(x) = \frac{3}{2} \Rightarrow f'''\left(\frac{4}{3}\right) = \frac{3}{2} \neq 0 \Rightarrow W\left(\frac{4}{3} \mid -\frac{32}{27}\right)$$

Skizze der Funktion:



Wendetangente:

Steigung im Wendepunkt:

$$f'(x) = \frac{3}{4}x^2 - 2x \Rightarrow f'\left(\frac{4}{3}\right) = \frac{3}{4} \cdot \left(\frac{4}{3}\right)^2 - 2 \cdot \frac{4}{3} = -\frac{4}{3}$$

Tangente:

$$-\frac{32}{27} = -\frac{4}{3} \cdot \left(\frac{4}{3}\right) + b \Rightarrow b = \frac{16}{27}$$

$$t(x) = -\frac{4}{3}x + \frac{16}{27}$$

5.) Ermitteln einer ganzrationalen Funktion aufgrund gegebener Eigenschaften I

Der Graph einer ganzrationalen Funktion dritten Grades besitzt im Punkt $P(1 \mid 3)$ die Steigung 3, im Punkt $Q(0 \mid 4)$ liegt ein Wendepunkt.

Wie lautet die Funktionsgleichung?

Lösung:

- i) $a + b + c + d = 3$ Punkt P eingesetzt in $f(x)$
ii) $3a + 2b + c = 3$ Steigung $m = 3$ in P eingesetzt in $f'(x)$
iii) $2b = 0$ Wendepunkt in Q eingesetzt in $f''(x)$
iv) $d = 4$ Punkt Q eingesetzt in $f(x)$
-

$$\begin{array}{l} i) \quad a + c = -1 \\ ii) \quad 3a + c = 3 \end{array} \left. \vphantom{\begin{array}{l} i) \\ ii) \end{array}} \right\} \xrightarrow{ii)-i)} 2a = 4 \Rightarrow a = 2 \Rightarrow c = -3$$

$\Rightarrow f(x) = 2x^3 - 3x + 4$

6.) Ermitteln einer ganzrationalen Funktion aufgrund gegebener Eigenschaften II

Der Graph einer ganzrationalen Funktion fünften Grades ist punktsymmetrisch und hat im Punkt $P(1 \mid 8)$ einen Sattelpunkt.

Bestimmen Sie die Funktionsgleichung?

Lösung:

- $P(1 \mid 8)$
- i) $b = d = f = 0$ Punktsymmetrie
ii) $a + c + e = 8$ Punkt P eingesetzt in $f(x)$
iii) $5a + 3c + e = 0$ Wendepunkt in P hat als Sattelpunkt die Steigung 0:
einsetzen in $f'(x)$.
iv) $20a + 6c = 0$ Punkt P als Wendestelle eingesetzt in $f''(x)$
-

$$\begin{aligned}
 & \left. \begin{array}{l} \text{ii) } a+c+e=8 \\ \text{iii) } 5a+3c+e=0 \end{array} \right\} \xrightarrow{\text{iii)-ii)} 4a+2c=-8 \xrightarrow{\cdot 3} \text{iii) } 12a+6c=-24 \\
 & \xrightarrow{\text{iv)-iii)} 8a=24 \Rightarrow a=3 \Rightarrow c=-10 \Rightarrow e=15 \\
 & \Rightarrow f(x) = 3x^5 - 10x^3 + 15x
 \end{aligned}$$

7.) Ansätze zur Berechnung einer ganzrationalen Funktion aufgrund gegebener Eigenschaften III

Bestimmen Sie lediglich die Ansätze aufgrund folgender Bedingungen:

Eine ganzrationale Funktion vierten Grades ...

- a) ... ist achsensymmetrisch und hat die Nullstelle in $x = 2$.
- b) ... hat ein Maximum in $x = 4$.
- c) ... hat an der Wendestelle bei $x = -2$ die Steigung 0,5.
- d) ... besitzt den Punkt $P(-1 | 2)$.

Lösung:

$$\text{a) } f(2) = a \cdot (2)^4 + b \cdot (2)^2 + c = 0 \Rightarrow 16a + 4b + c = 0$$

$$\begin{aligned}
 \text{b) } f'(4) &= 4a \cdot (4)^3 + 3b \cdot (4)^2 + 2c \cdot 4 + d = 0 \\
 &\Rightarrow 256a + 48b + 8c + d = 0
 \end{aligned}$$

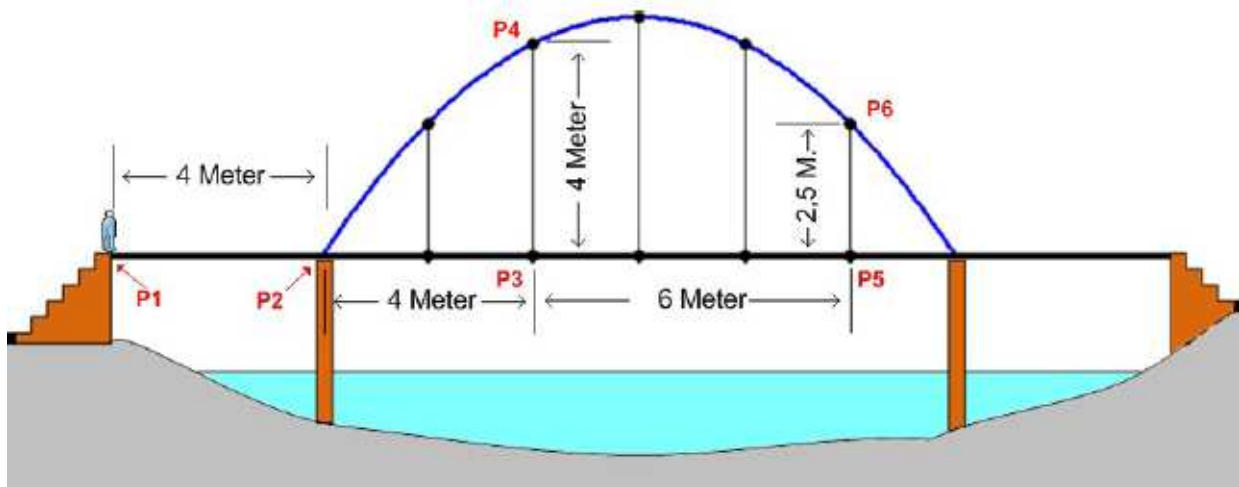
$$\begin{aligned}
 \text{c) } \text{i) } f''(-2) &= 12a \cdot (-2)^2 + 6b \cdot (-2) + 2c = 0 \\
 &\Rightarrow 48a - 12b + 2c = 0
 \end{aligned}$$

$$\begin{aligned}
 \text{ii) } f'(-2) &= 4a \cdot (-2)^3 + 3b \cdot (-2)^2 + 2c \cdot (-2) + d = 0,5 \\
 &\Rightarrow -32a + 12b - 4c + d = 0,5
 \end{aligned}$$

$$\begin{aligned}
 \text{d) } f(-1) &= a \cdot (-1)^4 + b \cdot (-1)^3 + c \cdot (-1)^2 + d \cdot (-1) + e = 2 \\
 &\Rightarrow a - b + c - d + e = 2
 \end{aligned}$$

8.) Parabeln zweiter Ordnung in der Realität

Eine Fußgängerbrücke wird von einem parabelförmigen Brückenbogen getragen.



a) Wie lang ist die gesamt Fußgängerbrücke?

Lösung: Die Teilabschnitte müssen addiert werden: $4 + 4 + 6 + 2 + 4 = 20$

b) Berechnen Sie die Gleichung des Brückenbogens anhand der Punkte P2, P4 und P6 und wählen Sie die Lage des Koordinatensystem geschickt!

Lösung:

$P_2(0 | 0); P_4(4 | 4)$ und $P_6(10 | 2,5)$ mit $f(x) = ax^2 + bx + c$

I.) $c = 0$ II.) $16a + 4b = 4$ III.) $100a + 10b = 2,5$

$$\xrightarrow{5 \cdot II - 2 \cdot III} -120a = 15 \Rightarrow a = -\frac{15}{120} = -\frac{1}{8}$$

$$\Rightarrow b = \frac{3}{2} \Rightarrow f(x) = -\frac{1}{8}x^2 + \frac{3}{2}x$$