

**Thema:** LGS, ganzrationale Funktionen höheren Grades, Horner-Schema, gebrochen-rat. Funktionen, Ökonom. Anwendungen

**1.) Untersuchung einer ganzrationalen Funktion**

Gegeben sei folgende reelle Funktion:

$$f(x) = 0,1(x^4 - 3x^3 - 9x^2 + 23x - 12)$$

a) Berechnen Sie die Funktionswerte an den Stellen  $x = 2$  und  $x = -3$ .

**Lösung:**  $x = 2 \Rightarrow f(2) = -1$

Das Hornerschema wurde hier für die ganzzahligen Koeffizienten durchgeführt, das Ergebnis dann mit 0,1 multipliziert

	x4	x3	x2	x1	x0	
f(x) =	1,00	-3,00	-9,00	23,00	-12,00	
x0	a(4)	a(3)	a(2)	a(1)	a(0)	
	1,00	-3,00	-9,00	23,00	-12,00	
2	0,00	2,00	-2,00	-22,00	2,00	
	1,00	-1,00	-11,00	1,00	-10,00	f(x0)

$x = -3 \Rightarrow f(-3) = 0$

Das Hornerschema wurde hier für die ganzzahligen Koeffizienten durchgeführt, das Ergebnis dann mit 0,1 multipliziert ;-))

	x4	x3	x2	x1	x0	
f(x) =	1,00	-3,00	-9,00	23,00	-12,00	
x0	a(4)	a(3)	a(2)	a(1)	a(0)	
	1,00	-3,00	-9,00	23,00	-12,00	
-3	0,00	-3,00	18,00	-27,00	12,00	
	1,00	-6,00	9,00	-4,00	0,00	f(x0)

b) Berechnen Sie alle Nullstellen der Funktion.

**Lösung:** 1. Nullstelle:  $x = -3$  (siehe oben)

2. und 3. Nullstelle:  $x = 1$     4. Nullstelle:  $x = 4$

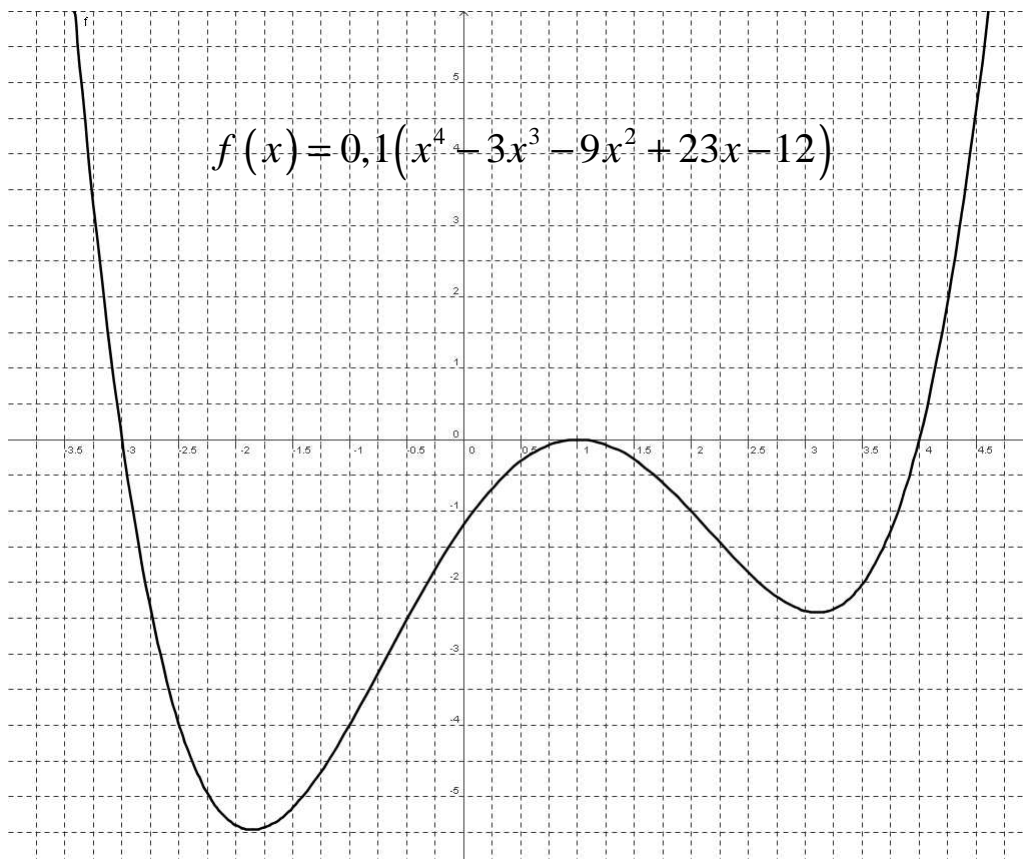
Weitere Nullstellen werden durch Abspalten per Polynomdivision ermittelt; danach quadratisches Restpolynom.

Oder komplette Berechnung per Hornerchema

	x4	x3	x2	x1	x0
f(x) =	1,00	-3,00	-9,00	23,00	-12,00
x0	a(4)	a(3)	a(2)	a(1)	a(0)
	1,00	-3,00	-9,00	23,00	-12,00
-3	0,00	-3,00	18,00	-27,00	12,00
	1,00	-6,00	9,00	-4,00	0,00
1	0,00	1,00	-5,00	4,00	
	1,00	-5,00	4,00	0,00	
1	0,00	1,00	-4,00		
	1,00	-4,00	0,00		
4	0,00	4,00			
	1,00	0,00			

c) Wie lautet der Schnittpunkt mit der y-Achse?

Lösung:  $f(0) = -1,2 \Rightarrow S_y(0 \mid -1,2)$



## 2.) Ermitteln einer ganzrationalen Funktion vom Grad $n = 3$

- a) Bestimmen Sie den Funktionsterm einer Funktion dritten Grades deren Graph durch die gegebenen Punkte verläuft:

$$A(0 \mid -4), B(1 \mid -1,5), C(2 \mid -2) \text{ und } D(-3 \mid 0,5)$$

### Lösung:

Ansatz:

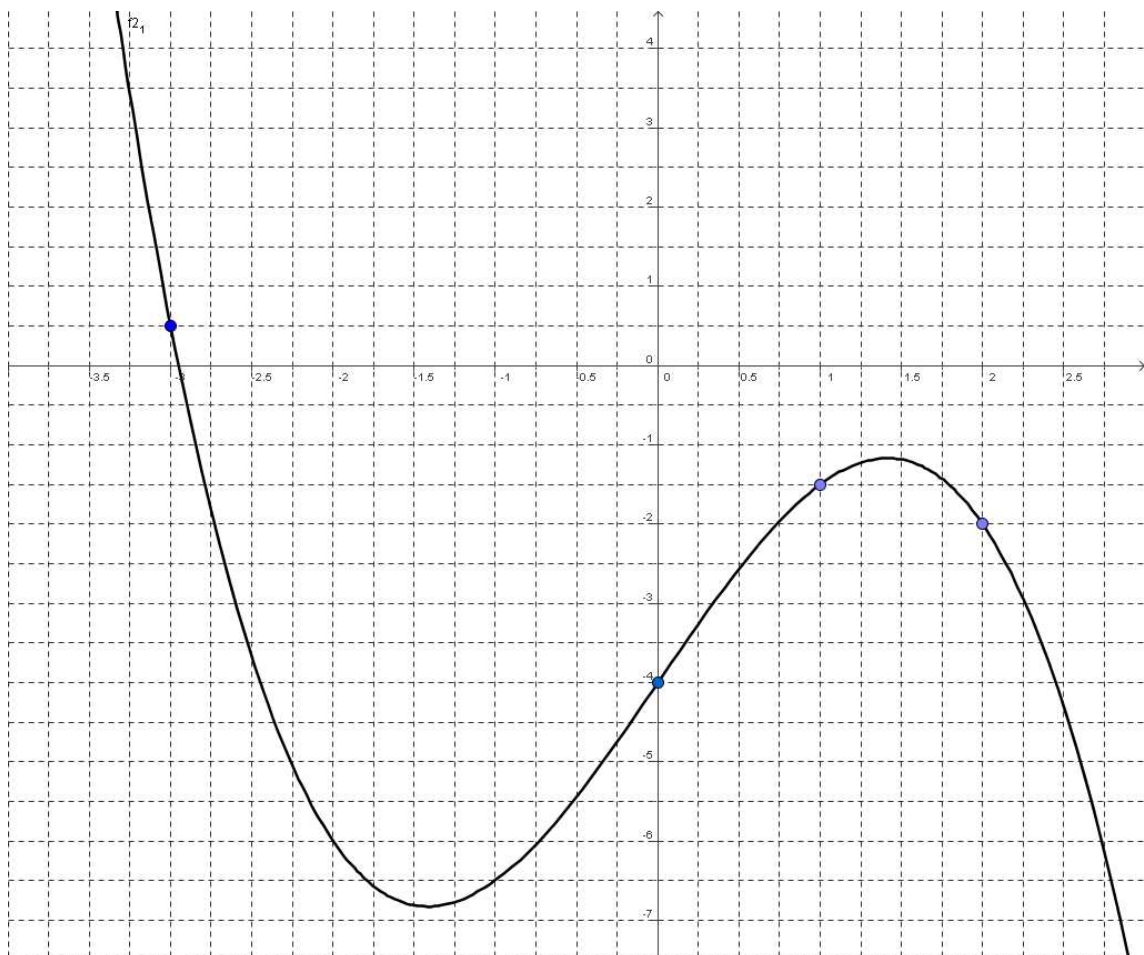
$$\left. \begin{array}{l} \text{I.) } d = -4 \\ \text{II.) } a + b + c - 4 = -1,5 \\ \text{III.) } 8a + 4b + 2c - 4 = -2 \\ \text{IV.) } -27a + 9b - 3c - 4 = 0,5 \end{array} \right\} \begin{array}{l} \text{I.) } d = -4 \\ \text{II.) } a + b + c = 2,5 \\ \text{III.) } 8a + 4b + 2c = 2 \\ \text{IV.) } -27a + 9b - 3c = 4,5 \end{array}$$

$\Rightarrow c = 2,5 - a - b$  einsetzen in III.) und IV.)

$$\left. \begin{array}{l} \text{III.) } 8a + 4b + 2(2,5 - a - b) = 2 \\ \text{IV.) } -27a + 9b - 3(2,5 - a - b) = 4,5 \end{array} \right\} \begin{array}{l} \text{III.) } 6a + 2b = -3 \\ \text{IV.) } -24a + 6b = 12 \end{array}$$

$$\Rightarrow a = -0,5 \quad b = 0 \quad c = 3 \quad d = -4$$

$$\Rightarrow f(x) = -0,5x^3 + 3x - 4$$



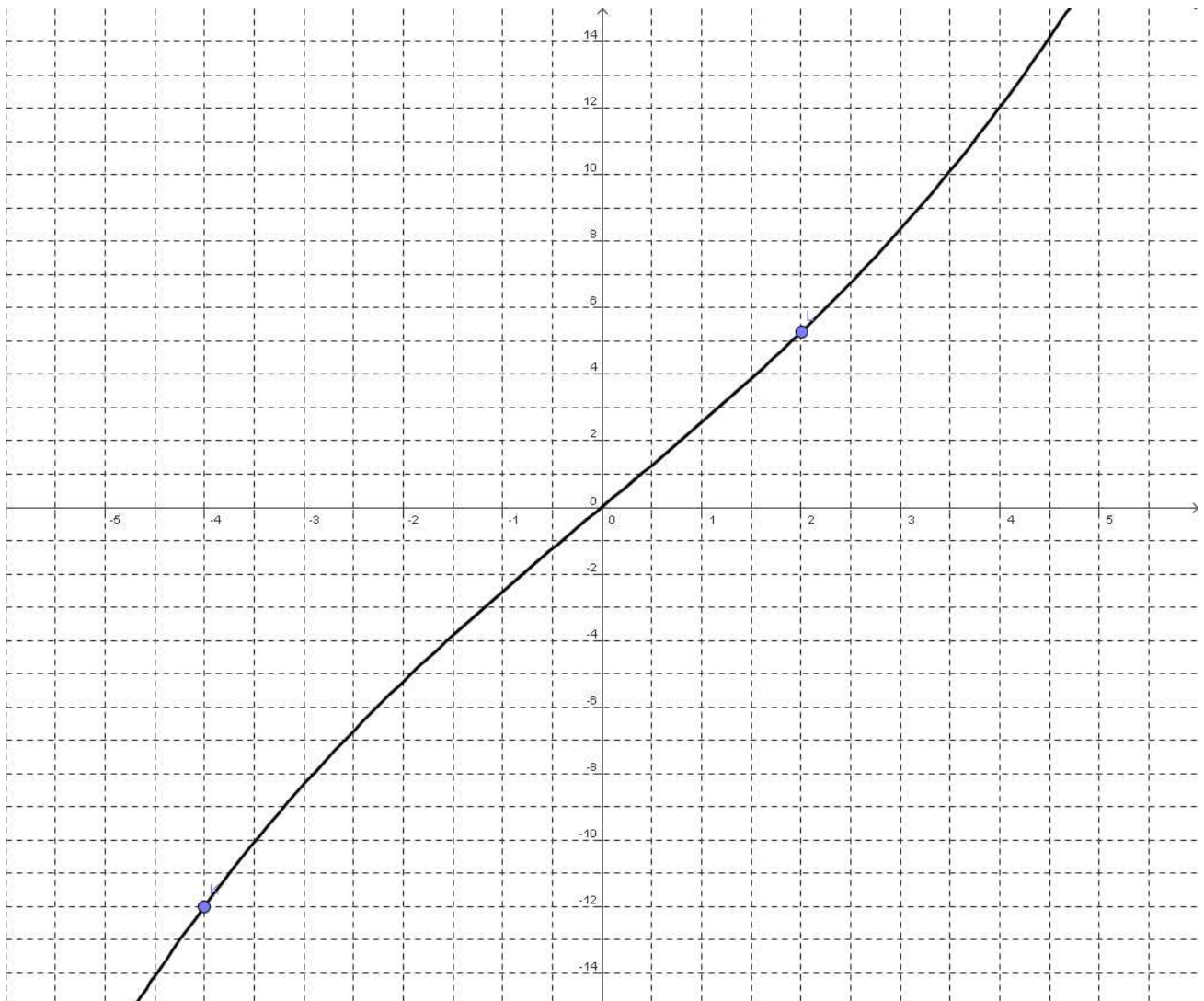
- b) Eine Parabel dritter Ordnung verläuft symmetrisch zum Ursprung (Punktsymmetrie) durch die Punkte  $A\left(2 \mid \frac{21}{4}\right)$  und  $B(-4 \mid -12)$ . Bestimmen Sie die Parabelgleichung.

**Lösung:**

wegen der Punktsymmetrie gilt:  $f(x) = ax^3 + bx$

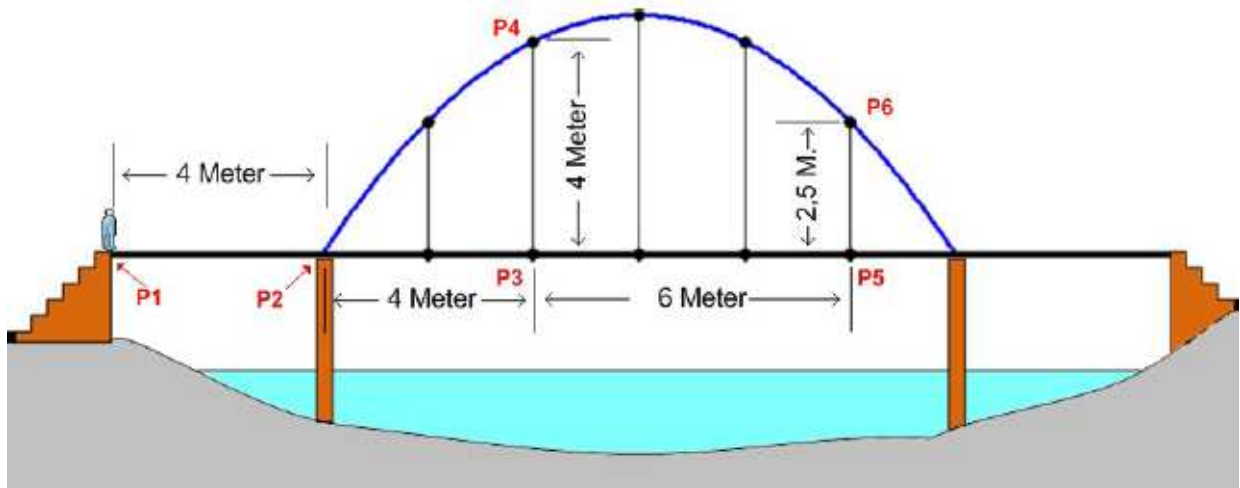
$$I.) \quad 8a + 2b = \frac{21}{4} \quad II.) \quad -64a - 4b = -12$$

$$\xrightarrow{I.) \cdot 2 + II.)} -48a = -1,5 \Rightarrow a = \frac{1}{32} \Rightarrow b = \frac{5}{2} \Rightarrow f(x) = \frac{1}{32}x^3 + \frac{5}{2}x$$



### 3.) Parabeln zweiter Ordnung in der Realität

Eine Fußgängerbrücke wird von einem parabelförmigen Brückenbogen getragen.



a) Wie lang ist die gesamt Fußgängerbrücke?

**Lösung:** Die Teilabschnitte müssen addiert werden:  $4 + 4 + 6 + 2 + 4 = 20$

b) Berechnen Sie die Gleichung des Brückenbogens anhand der Punkte P2, P4 und P6 und wählen Sie die Lage des Koordinatensystem geschickt!

**Lösung:**

$P_2(0 | 0); P_4(4 | 4)$  und  $P_6(10 | 2,5)$  mit  $f(x) = ax^2 + bx + c$

I.)  $c = 0$     II.)  $16a + 4b = 4$     III.)  $100a + 10b = 2,5$

$$\xrightarrow{5 \cdot II - 2 \cdot III} -120a = 15 \Rightarrow a = -\frac{15}{120} = -\frac{1}{8}$$

$$\Rightarrow b = \frac{3}{2} \Rightarrow f(x) = -\frac{1}{8}x^2 + \frac{3}{2}x$$

### 4.) Ökonomische Anwendungen

Gegeben sind die Kostenfunktion  $k(x) = 0,5x^2 + 4x + 3,5$

und die Erlös-Funktion  $E(x) = -1,5(x-2)^2 + 6(x-2) + 18$

- a) Bestimmen Sie die Preis-Absatz-Funktion  $p_N(x)$ .

Lösung:

$$E(x) = -1,5(x-2)^2 + 6(x-2) + 18 = -1,5x^2 + 12x$$

$$p_N(x) = \frac{E(x)}{x} = -1,5x + 12$$

- b) Wie lautet der ökonomische Definitionsbereich.

Lösung:

$$E(x) = 0 \Rightarrow x(-1,5x^2 + 12) = 0 \Rightarrow x_1 = 0 \wedge x_2 = 8$$

$$D = [0; 8]$$

- c) Wo liegen Gewinnschwelle und Gewinngrenze?

Lösung:

$$G(x) = E(x) - k(x) \Rightarrow G(x) = -1,5x^2 + 12x - \left(\frac{1}{2}x^2 + 4x + \frac{7}{2}\right)$$

$$\Rightarrow G(x) = -2x^2 + 8x - \frac{7}{2} = 0$$

$$\Rightarrow x_{1/2} = \frac{-8 \pm \sqrt{64 - 28}}{-4} = \frac{-8 \pm 6}{-4}$$

$$\Rightarrow x_1 = 0,5 [\text{Gewinnschwelle}] \wedge x_2 = 3,5 [\text{Gewinngrenze}]$$

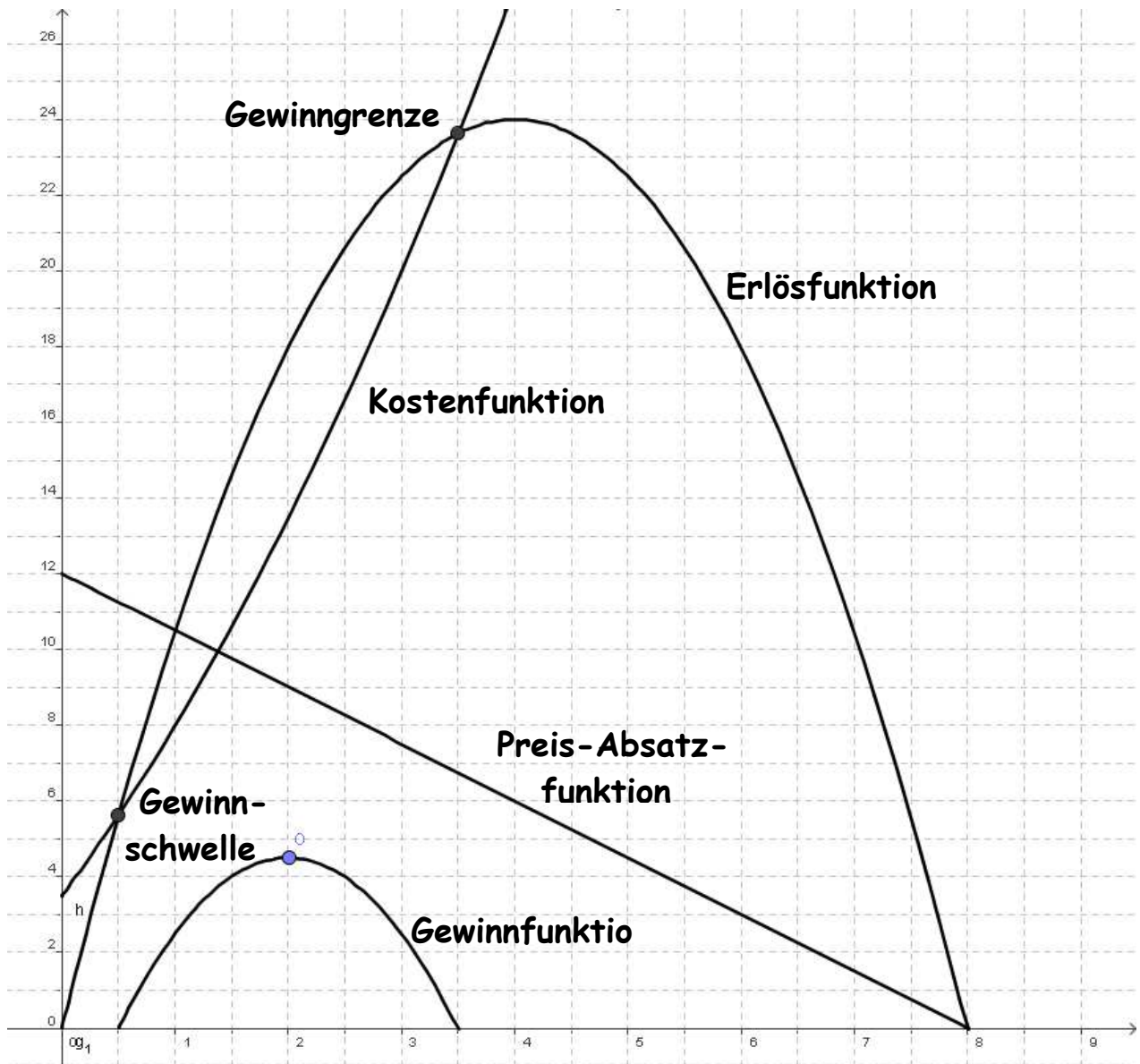
- d) Berechnen Sie den maximalen Gewinn.

Lösung:

$$G(x) = -2x^2 + 8x - \frac{7}{2} = -2\left(x^2 - 4x + \frac{7}{4}\right)$$

$$G(x) = -2\left[\left(x^2 - 4x + 2^2\right) - 2^2 + \frac{7}{4}\right] = -2(x-2)^2 + 4,5$$

$$\Rightarrow G_{\max} = (2 \mid 4,5)$$



### 5.) Scheitelpunkt einer Brücke

Hier sehen Sie die Brücke Stari Most. Die **Alte Brücke** ist das namensgebende Wahrzeichen der Stadt Mostar in Bosnien-Herzegowina.

Sie überspannt die Neretva und verbindet den mehr bosniakisch geprägten Ostteil mit dem stärker kroatisch geprägten Westteil der Stadt.

Mit einer Breite von ?? m und ?? m Höhe (im Scheitelpunkt über der Neretva) war sie zur Zeit ihrer Erbauung ein Meisterwerk der Baukunst.

Wie breit und hoch ist eigentlich die Brücke, wenn man von einer Parabelgleichung von

$$p(x) = -0,05x^2 + 2x$$

ausgeht?

**Lösung:**

$$p(x) = -0,05(x^2 - 40x) = -0,05[(x^2 - 40x + 20^2) - 20^2] = -0,05(x - 20)^2 + 20$$

$$S(20 \mid 20)$$

=> Breite: 40 m      und      Höhe: 20 m



**6.) Gebrochen-rationale Funktionen konstruieren**

Erstellen Sie eine gebrochen-rationale Funktion mit folgenden Eigenschaften:

- a) Polstelle mit VZW bei  $x = 2$  und Nullstelle bei  $x = -1$ .

**Lösung:**       $f(x) = \frac{x+1}{x-2}$

- b) Polstelle ohne VZW bei  $x = 4$ , doppelte Nullstelle bei  $x = 3$   
und Asymptote mit  $a(x) = 2$

**Lösung:**       $f(x) = \frac{2(x-3)^2}{(x-4)^2}$



## 7.) Untersuchung gebrochen-rationaler Funktionen

Gegeben seien die drei Funktionen

$$(i) f(x) = \frac{3(x-4)}{2(x-1)}$$

$$(ii) g(x) = \frac{x-1}{x^2-4}$$

$$(iii) h(x) = \frac{x^2-1}{x+2}$$

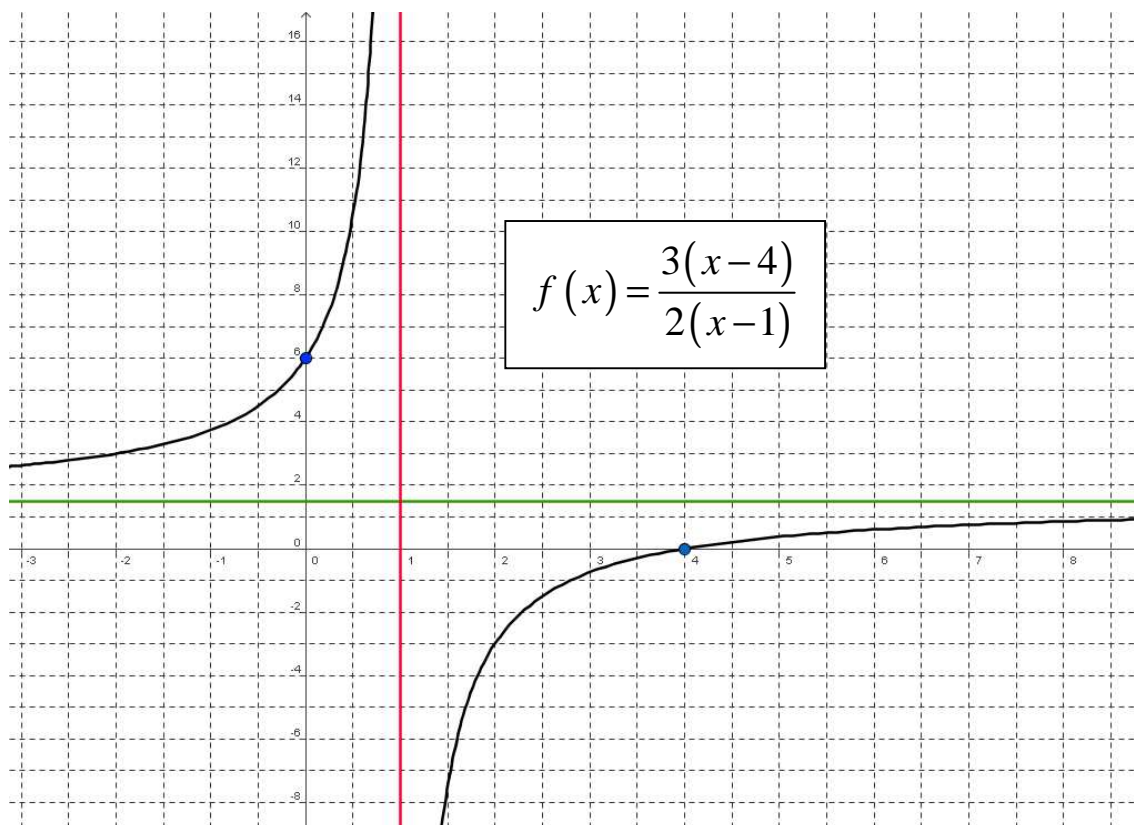
- a) Untersuchen Sie die drei Funktionen hinsichtlich ihrer Asymptote, Polstellen, Nullstellen und ihres Schnittpunktes mit der y-Achse

Lösung:

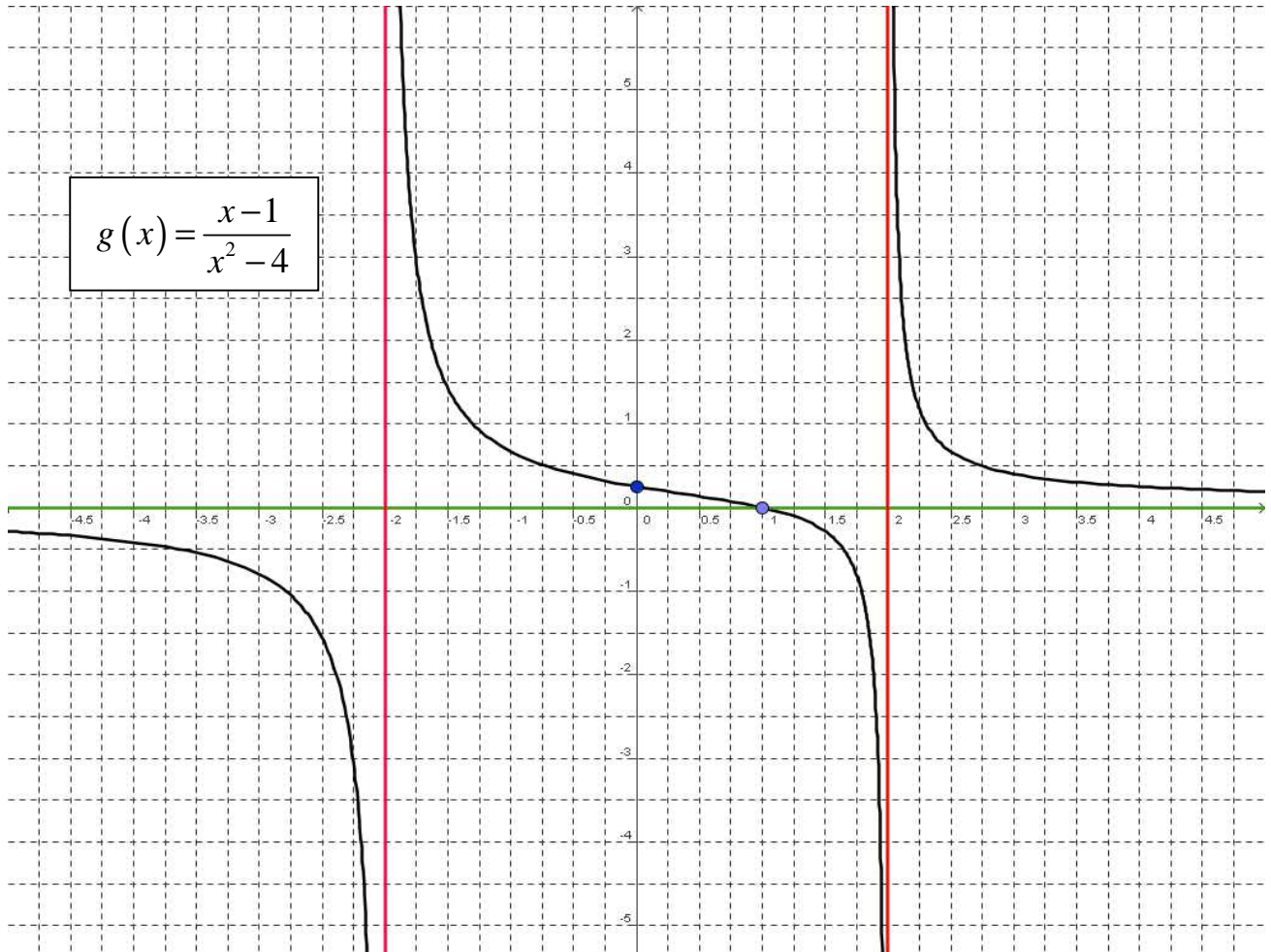
	$f(x) = \frac{3(x-4)}{2(x-1)}$	$g(x) = \frac{x-1}{x^2-4}$	$h(x) = \frac{x^2-1}{x+2}$
Nullstelle(n)	$x = 4$	$x = 1$	$x = 1$ und $x = -1$
Polstelle(n)	$x = 1$	$x = 2$ und $x = -2$	$x = -2$
$S_y$	$(0 \mid 6)$	$(0 \mid 0,25)$	$(0 \mid -0,5)$
Asymptote	$a(x) = 1,5$	$a(x) = 0$	$a(x) = x-2$

- b) Fertigen Sie je eine Skizze der Funktionen mit Ihren Ergebnissen an

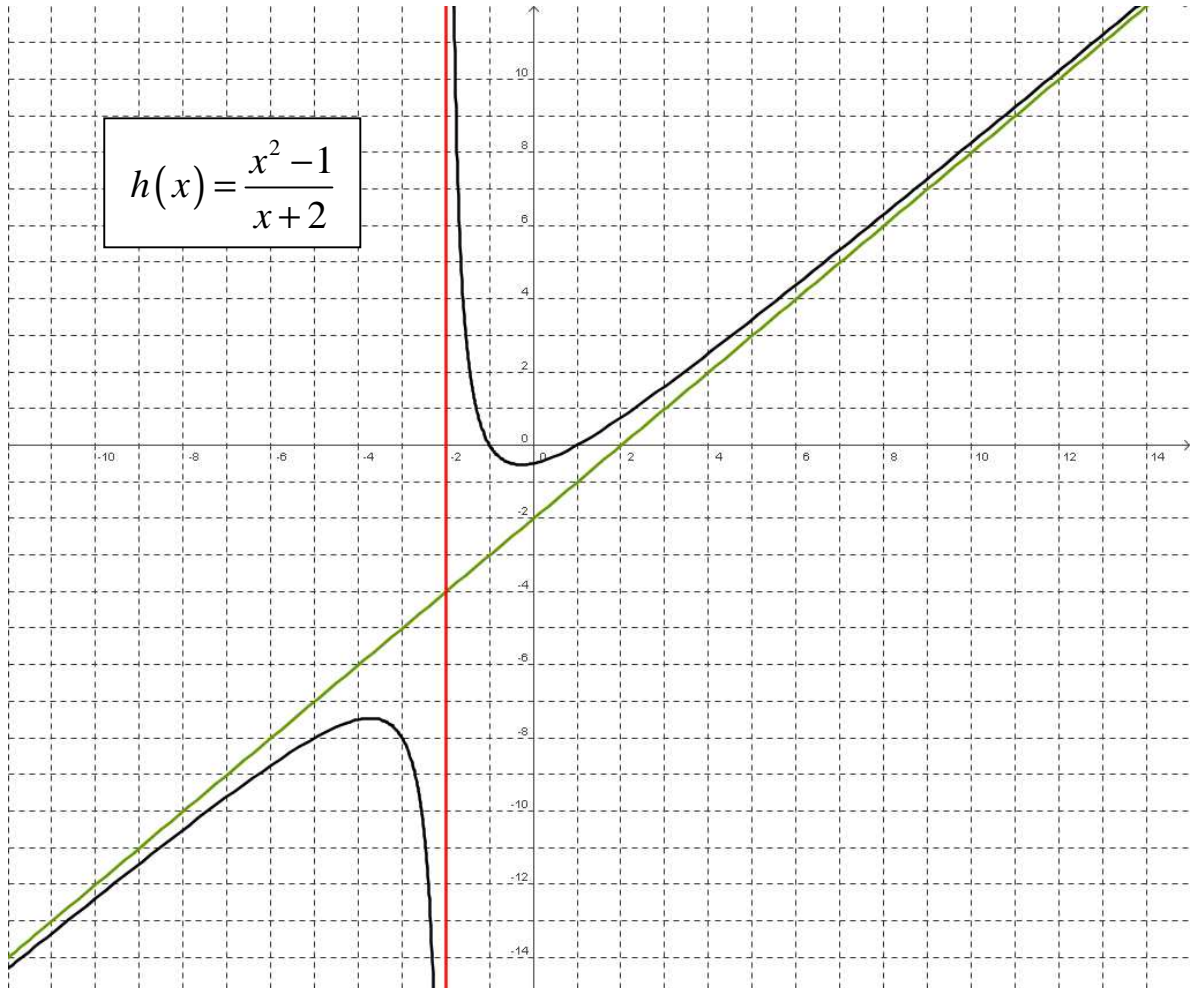
Lösung:



$$g(x) = \frac{x-1}{x^2-4}$$



$$h(x) = \frac{x^2-1}{x+2}$$



- c) Eine Ursprungsgerade verläuft durch den Punkt  $(-2 \mid f(-2))$ .
- Bestimmen Sie die Geradengleichung.
  - In welchem Punkt schneidet die gesuchte Gerade die Funktion  $f(x)$  zum zweiten Mal?

**Lösung:**

$$f(x) = \frac{3(x-4)}{2(x-1)} \Rightarrow f(-2) = \frac{3(-2-4)}{2(-2-1)} = 3$$

$$\Rightarrow \text{Geradengleichung: } g(x) = -\frac{3}{2}x$$

$$\Rightarrow \text{weiterer Schnittpunkt: } f(x) = g(x) \Rightarrow \frac{3(x-4)}{2(x-1)} = -\frac{3}{2}x$$

$$\xrightarrow{\cdot \frac{2}{3}(x-1)} x-4 = -x^2 + x \xrightarrow{-x} 4 = x^2 \Rightarrow x_2 = 2 \Rightarrow g(2) = -3$$

$$\Rightarrow S_2(2 \mid -3)$$

### 8.) Gebrochen-rationale Funktionen mit Parameter

Gegeben ist die Funktion  $f_t(x) = \frac{x^2}{x^2 - 2tx + 3t}$  mit  $t \in \mathbb{R} \setminus \{0\}$

Für welchen Wert von  $t$  besitzt die Funktion

- keine Polstelle?
- eine Polstelle?
- zwei Polstellen?

**Lösung:**

$$x^2 - 2tx + 3t = 0 \Rightarrow x_{1/2} = t \pm \sqrt{t^2 - 3t} \Rightarrow t(t-3) = 0 \Rightarrow t_1 = 0 \wedge t_2 = 3$$

eine Polstelle:  $t_2 = 3$  da  $t = 0$  nicht definiert ist!

keine Polstelle:  $t^2 - 3t < 0 \Rightarrow t(t-3) < 0 \Rightarrow ]0; 3[$

zwei Polstellen:  $t^2 - 3t > 0 \Rightarrow t(t-3) > 0 \Rightarrow t \in \mathbb{R} \setminus ]0; 3[$